

La reconstitution des paysages du passé

*Comment reconnaître les modifications d'un paysage et d'un climat au cours du temps ?*

NOM :	Classe :
Date :	Note : /10

Complétez le tableau 1 :

Sites sélectionnés	Date d'apparition du chêne à feuilles caduques
BANYOLES	
TOURVES	
SUZE LA ROUSSE	
AURIERE	

RE /1

Comment est-il possible d'interpréter les résultats de ce tableau ?

RA /1

Les chênes à feuilles caduques sont-ils de bons représentants du biome « forêt tempérée décidue » ?

RA /1

Complétez le tableau 2 :

Sites sélectionnés	Date d'apparition du hêtre
BALATONSZEMES	
BALATONMARIAFURDO	
PLUHUV ZDAR	
WALCHSEE	

RE /1

Interprétez les résultats de ce tableau.

RA /1

Comment expliquer les valeurs un peu contradictoires observées à la station de Walchsee ?

RA /1

Les hêtres sont-ils de bons représentants du biome « forêt tempérée décidue » ?

RA /1





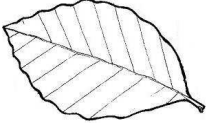
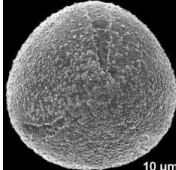
En comparant les résultats des tableaux 1 et 2 précisez si le hêtre est apparu à la même période que le chêne à feuilles caduques ?

IN /1

Quelle explication est-il possible de donner ?

RA /1

**La forêt tempérée décidue peut être sous l'influence d'un climat océanique ou sous l'influence d'un climat continental.**  
A partir de vos observations complétez le tableau 3.

Nom du végétal	Silhouette	Feuille	Grain de pollen	Sous l'influence d'un climat.....
Forêt tempérée décidue à chêne à feuilles caduques				
Forêt tempérée décidue à Hêtre				

Raisonner RA	/6
Réaliser RE	/3
Informier IN	/1
<b>TOTAL</b>	<b>/10</b>

SC2

B2i

C.1.1 Je sais m'identifier sur un réseau ou un site et mettre fin à cette identification.	
C.2.6 Je sécurise mes données (gestion des mots de passe, fermeture de session, sauvegarde)	
C.4.3 je sais utiliser les fonctions principales d'un outil de recherche sur le web (moteur de recherche)	

Rechercher, extraire et organiser l'information utile (écrite, orale, observable).